



ข้อสอบ ข้อที่	ตรงกับมาตรฐาน/ตัวชี้วัด					
	ศ ๑.๑					ศ ๑.๒
	๑	๒	๓	๔	๕	๑
๑-๑๐	✓					
๑๑-๒๐			✓			

รวม ๒ ตัวชี้วัด

คำชี้แจง วง  รอบตัวอักษรหน้าคำตอบที่ถูกต้องที่สุด

๑. ข้อใดเป็นลักษณะของผลส้ม
  - ก. มีเปลือกผิวเรียบ
  - ข. มีรูปร่างวงรี
  - ค. มีผลสีแดง
๒. ข้อใดมีพื้นผิวนุ่ม
  - ก. ผ้าห่ม
  - ข. กระดานดำ
  - ค. ซองจดหมาย
๓. สิ่งใดมีรูปร่างเป็นวงรี
  - ก. แม่ไก่
  - ข. ไข่ไก่
  - ค. ลูกไก่
๔. ซองจดหมายมีรูปร่างตรงกับข้อใด
  - ก.
  - ข.
  - ค.
๕. มีกระดองแข็ง เป็นลักษณะของสิ่งใด
  - ก. กระต่าย
  - ข. คางคก
  - ค. เต่า
๖. ข้อใดมีขนาดใหญ่มากที่สุด
  - ก. ใบไม้
  - ข. ต้นไม้
  - ค. ดอกไม้




๗. ข้อใดเป็นวัสดุสังเคราะห์

- ก. โฟม
- ข. กิ่งไม้
- ค. เปลือกไข่

๘. ข้อใดมีรูปร่างอิสระ

- ก. ลูกบิ๊งปอง
- ข. ผลมะม่วง
- ค. กระดานดำ

๙. หน้าจอโทรทัศน์ มีรูปร่าง  
อย่างไร

- ก. 
- ข. 
- ค. 

๑๐. ข้อใดมีรูปร่างต่างจาก  
ยางรถยนต์

- ก. หน้าปัดนาฬิกา
- ข. เหยี่ยอบาท
- ค. ลูกขนไก่

๑๑. อุปกรณ์ใดใช้ร่วมกับสีน้ำ

- ก. พู่กัน
- ข. สีเทียน
- ค. เข็มหมุด

๑๒. สีใดไม่ต้องผสมน้ำ


- ก. สีน้ำ
- ข. สีเทียน
- ค. สีโปสเตอร์

๑๓. เราใช้อุปกรณ์ใดร่างภาพ

- ก. พู่กัน
- ข. ปากกา
- ค. ดินสอ

๑๔. “สีสันตไส” คือลักษณะเด่น  
ของสีชนิดใด

- ก. สีน้ำ
- ข. สีไม้
- ค. สีเทียน

๑๕.  จากภาพ เป็น  
อุปกรณ์ในข้อใด

- ก. แก้วน้ำ
- ข. จานสี
- ค. พู่กัน

๑๖. สีใดมีวิธีการใช้งานคล้ายกัน

- ก. สีไม้และสีน้ำ
- ข. สีน้ำและสีเทียน
- ค. สีน้ำและสีโปสเตอร์

๑๗. วัสดุในข้อใดไม่ควรนำมาใช้ใน  
งานศิลปะ

ก. ใบมีด

ข. กิ่งไม้ไผ่

ค. เปลือกไข่

๑๘. เพราะเหตุใดจึงต้องปิดฝา  
หลอดสีน้ำให้สนิททุกครั้ง  
หลังใช้งาน

ก. เพื่อไม่ให้สีจาง

ข. เพื่อไม่ให้สีเข้ม

ค. เพื่อไม่ให้สีแห้ง

๑๙. ข้อใดเป็นวิธีการเก็บพู่กัน  
ที่ถูกต้อง

ก. วางเอาขนพู่กันตั้งลง

ข. เอาวางรัดมัดรวมกัน

ค. สวมหลอดดูดที่ปลายพู่กัน

๒๐. เพราะเหตุใดจึงต้องมีแก้ว  
ใส่น้ำวางไว้ขณะทำงาน  
ทดลองสี

ก. เพื่อไว้ล้างพู่กัน

ข. เพื่อใช้ทำความสะอาดพื้น

ค. เพื่อเช็ดกระดาษวาดเขียน

ให้คะแนน คะแนนเต็ม  
๒๐