



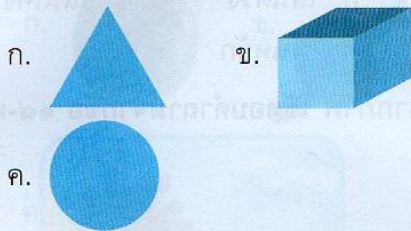
แบบทดสอบประเมินผลสัมฤทธิ์ทางการเรียน ประจำปีภาคเรียนที่ ๑

ข้อสอบข้อที่	ตรงกับมาตรฐานตัวชี้วัด									
	ศ ๑.๑								ศ ๑.๒	
	๑	๒	๓	๔	๕	๖	๗	๘	๑	๒
๑-๑๐	✓									
๑๑-๒๐		✓								
๒๑-๓๐			✓							

รวม ๓ ตัวชี้วัด

คำชี้แจง วง ○ รอบตัวอักษรหน้าคำตอบที่ถูกต้องที่สุด

๑. ภาพใดต่างจากข้ออื่น



๒. รูปร่างต่างๆ สามารถสังเกตได้จากอะไร

- ก. เส้นรอบนอก ข. เส้นกลาง
ค. เส้นวงใน


๓. ข้อใดเป็นรูปร่างที่เกิดขึ้นจากธรรมชาติ

- ก. วงกลม ข. ดินสอ
ค. ใบไม้

๔. ข้อใดไม่ใช่รูปทรงที่เกิดจากธรรมชาติ

- ก. กระจกหน้าต่าง
ข. กล้วยน้ำว่า
ค. ก้อนหิน

๕. ข้อใดเป็นรูปร่างของดอกไม้



๖. ข้อใดกล่าวได้ถูกต้อง

- ก. รูปร่างสามารถมองได้รอบด้าน
ข. รูปร่างมีลักษณะเป็น ๒ มิติ
ค. รูปร่างสังเกตได้จากความกว้าง ความยาว ความลึก

๗. ข้อใดเป็นรูปทรงที่มนุษย์สร้างขึ้น

- ก. มะเขือเทศ
ข. สับปะรด
ค. ซาลาเปา

๘. ข้อใดไม่ใช่รูปทรงที่มนุษย์สร้างขึ้น

- ก. ต้นไม้ ข. ยางลบ
ค. แก้วน้ำ

๙. ข้อใดเป็นลักษณะของรูปทรง

- ก. มองเห็นความกว้าง ความยาว
- ข. มีลักษณะเป็น ๓ มิติ
- ค. เป็นระนาบแบนๆ

๑๐. ข้อใดมีรูปร่างต่างจากพวก

- ก. ช่องจดหมาย
- ข. กระดานดำ
- ค. ดินสอ

๑๑. ข้อใดไม่เกี่ยวข้องกับทัศนธาตุ


- ก. อากาศ ธาตุ
- ข. เส้น ที่ว่าง พื้นผิว
- ค. องค์ประกอบต่างๆ ของภาพ
ที่มองเห็น

๑๒. ท้องฟ้าเวลาฝนตก ควรระบายด้วย
สีใด

- ก. สีขาว ข. สีเทา
- ค. สีฟ้า

๑๓. ลูกแก้ว มีรูปทรงอย่างไร

- ก. ทรงกลม
- ข. ทรงมน
- ค. ทรงรี

๑๔.  จากภาพ ฝนตกเป็นเส้น
แบบใด

- ก. เส้นตรงแนวตั้ง
- ข. เส้นตรงแนวนอน
- ค. เส้นตรงแนวเฉียง

๑๕. กล้องใส่ชอล์ก มีทัศนธาตุใด

- ก. รูปทรงกลม
- ข. รูปทรงสี่เหลี่ยม
- ค. รูปทรงสามเหลี่ยม

๑๖. ข้อใดที่ไม่ใช่ทัศนธาตุที่เห็นจาก
ไม้บรรทัด

- ก. เส้นตรงแนวเฉียง
- ข. เส้นตรงแนวนอน
- ค. เส้นตรงแนวตั้ง

๑๗. ภาพวาดงู ใช้เส้นในข้อใดมากที่สุด

- ก. เส้นตรง ข. เส้นโค้ง
- ค. เส้นหยัก

จากภาพ ใช้ตอบคำถามจากข้อ ๑๘-๒๐



๑๘. จากภาพ สีใดที่ไม่ปรากฏ

- ก. สีน้ำเงิน ข. สีเหลือง
- ค. สีฟ้า

๑๙. จากภาพ เส้นใดที่ปรากฏอยู่ในภาพ

- ก. เส้นขดกันหอย ข. เส้นซิกแซ็ก
- ค. เส้นโค้ง

๒๐. จากภาพ ไม่มีรูปร่างใด

- ก. สามเหลี่ยม ข. สี่เหลี่ยม
- ค. วงกลม




๒๑. การระบายสีภาพงูนั้น ควรระบายสีใด

- ก. สีน้ำตาล
- ข. สีเหลือง
- ค. สีเขียว

๒๒. ข้อใดเป็นสีของดอกทานตะวัน

- ก. สีขาว
- ข. สีเหลือง
- ค. สีน้ำเงิน

๒๓. สีของวัสดุในข้อใด เป็นสีที่มนุษย์สร้างขึ้น

- ก. 
- ข. 
- ค. 

๒๔. ถ้าต้องการให้ภาพดูสดใส ควรใช้สีใดเป็นพื้นหลัง

- ก. สีฟ้า
- ข. สีเทา
- ค. สีน้ำเงิน

๒๕. ถ้าต้องการให้ภาพดูเรียบเหงา ควรใช้สีใดเป็นพื้นหลัง

- ก. สีเหลือง
- ข. สีชมพู
- ค. สีเทา

๒๖. การวาดภาพต้นไม้ไม่ให้ความชุ่มชื้น ควรใช้สีใดระบายใบไม้

- ก. สีเขียว
- ข. สีน้ำตาล
- ค. สีแดงสด

๒๗. ถ้าหากต้องการวาดภาพภูเขา ควรใช้เส้นใดในการวาด

- ก. เส้นโค้ง
- ข. เส้นตรง
- ค. เส้นขดกันหอย

๒๘. ผลมะนาว มีลักษณะอย่างไร

- ก. ทรงสี่เหลี่ยมมุมฉาก
- ข. ทรงกลม
- ค. ทรงรี

๒๙. ใครไม่ได้ใช้ทัศนธาตุในการสร้างผลงาน

- ก. เปิ้ลปั้นตุ๊กตา
- ข. ชินอ่านหนังสือ
- ค. ออมทำภาพปะติด

๓๐. โด๊ะมีรูปทรงอย่างไร

- ก. แปดเหลี่ยม
- ข. สามเหลี่ยม
- ค. สี่เหลี่ยม