





แบบทดสอบประเมินผลสัมฤทธิ์ทางการเรียน ประจำภาคเรียนที่ ๑

ข้อสอบข้อที่	ตรงกับมาตรฐาน/ตัวชี้วัด													
	ศ ๑.๑										ศ ๑.๒			
	๑	๒	๓	๔	๕	๖	๗	๘	๙	๑๐	๑	๒		
๑-๘	✓													
๙-๑๖			✓											
๑๗-๒๓									✓					
๒๔-๓๐										✓				

รวม ๔ ตัวชี้วัด

คำชี้แจง วง ○ รอบตัวอักษรหน้าคำตอบที่ถูกต้องที่สุด

๑. ข้อใดคือรูปร่างของไข่ไก่



๒. จากภาพเหมือนรูปทรงของอะไรมากที่สุด







ก. มะพร้าว

ข. กัลฉวย

ค. มะละกอ

ง. สับปะรด

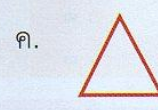


๓. ข้อใดเป็นรูปร่างของสิ่งที่มีมนุษย์สร้างขึ้น



๔. ข้อใดเป็นรูปทรงของสิ่งที่อยู่ในธรรมชาติ



๕. จากภาพ เขียนเป็นรูปร่างได้อย่างไร



๖. จากภาพเป็นรูปร่าง
ของอะไร

- ก. สุนัข ข. เป็ด
ค. ช้าง ง. ปลา

๗. ข้อใดกล่าวถูกต้อง

- ก. รูปร่างเป็นภาพ ๓ มิติ
ข. รูปร่างมีเฉพาะความกว้าง
และความยาว
ค. รูปทรงเป็นภาพที่ไม่มีควมลึก
ง. รูปทรงเป็นภาพที่ไม่มีแสงเงา

๘.



จากภาพ มีรูปทรงใดปรากฏอยู่

- ก. สามเหลี่ยม
ข. สี่เหลี่ยม
ค. ทรงกลม
ง. วงรี

๙.



จากภาพ
ไม่ปรากฏ
ทัศนธาตุใด

- ก. เส้นโค้ง ข. วงกลม
ค. สีเขียว ง. เส้นตรง

๑๐. ธนบัตรจะปรากฏทัศนธาตุใดชัดเจน
ที่สุด

- ก. รูปร่างอิสระ
ข. รูปร่างวงกลม
ค. รูปร่างสี่เหลี่ยม
ง. รูปร่างสามเหลี่ยม

๑๑. สีในข้อใดที่ให้ความรู้สึก “สงบ เยือก
ร่มรื่น ร่มเย็น”

- ก. สีฟ้า
ข. สีแดง
ค. สีม่วง
ง. สีเขียว

๑๒. สีแดง ให้ความรู้สึกอย่างไร

- ก. สงบ
ข. สดชื่น
ค. สะอาด
ง. รุนแรง

๑๓. สิ่งของในข้อใดปรากฏเฉพาะเส้นตรง

- ก. ลูกบอล
ข. กลองชอล์ก
ค. กระบอกน้ำ
ง. รองเท้านักเรียน

๑๔. พื้นผิวของสิ่งใดไม่ควรใช้มือสัมผัส

- ก. ดิน
ข. กาว
ค. ทRAY
ง. ตะบองเพชร

๑๕. ข้อใดมีพื้นผิวหยาบ

- ก. กระดาษทราย ข. ลูกโป่ง
ค. กระฉก ง. สีส

๑๖. ขนเม่น มีลักษณะอย่างไร

- ก. นุ่มลื่น ข. เปี้ยกลื่น
ค. เหนียวหนืด ง. แหลมหคม





๑๗. ข้อใดจัดอยู่ในกลุ่มของภาพที่มี
รูปทรงเรขาคณิต

- ก.  ข. 
ค.  ง. 

๑๘. ข้อใดจัดอยู่ในกลุ่มของภาพที่มี
รูปทรงอิสระ

- ก.  ข. 
ค.  ง. 

๑๙. ข้อใดไม่จัดอยู่ในกลุ่มของภาพที่มี
เส้นโค้ง

- ก.  ข. 
ค.  ง. 





๒๐. ข้อใดจัดอยู่ในกลุ่มของภาพที่เป็น
รูปทรง

- ก.  ข. 
ค.  ง. 

๒๑. ข้อใดจัดอยู่ในกลุ่มของภาพที่มีสีแดง

- ก.  ข. 
ค.  ง. 

๒๒. ข้อใดจัดอยู่ในกลุ่มของภาพที่เป็น
รูปร่าง

- ก.  ข. 
ค.  ง. 

๒๓. จากภาพ ควรจัดอยู่ใน
ในกลุ่มของภาพใด

- ก. กลุ่มของภาพที่มีเส้นโค้ง
ข. กลุ่มของภาพที่มีเส้นตรง
ค. กลุ่มของภาพที่มีสีน้ำเงิน
ง. กลุ่มของภาพที่มีรูปร่างอิสระ

๒๔. สิ่งของเครื่องใช้ส่วนใหญ่
เป็นรูปทรงเรขาคณิต เพราะอะไร

- ก. มีราคาถูก
ข. มีการจัดวางได้สะดวก
ค. มีความปลอดภัยในการใช้งาน
ง. มีความสวยงามกว่ารูปทรงอิสระ

๒๕. สิ่งของเครื่องใช้ใดที่มีรูปร่างเหมือน

โทรทัศน์

ก. แก้ว

ข. ชิงช้า

ค. แจกัน

ง. กระดานดำ

๒๖. ทำไมสิ่งของเครื่องใช้ในโรงเรียน

มักมีความโค้งมน

ก. ทำให้เกิดความปลอดภัย

ข. มีความสวยงาม

ค. จัดวางได้ง่าย

ง. มีราคาถูก

๒๗. ตู้เย็นถูกออกแบบให้เป็นรูปทรง

สี่เหลี่ยมเพราะอะไร

ก. เน้นความคงทน

ข. เน้นความสวยงาม

ค. เน้นความประหยัด

ง. เน้นพื้นที่ในการใช้งาน

๒๘. ข้อใดเป็นหลักการออกแบบสิ่งของ

เครื่องใช้ที่สำคัญที่สุด


ก. นำไปใช้งานได้สะดวกและ
เหมาะสม

ข. มีสีสันสวยงามและราคาถูก

ค. จัดเก็บได้ง่ายและสะดวก

ง. ใช้วัสดุที่มีน้ำหนักเบา

๒๙.



จากภาพ เป็นรูปร่าง
ของสิ่งใดในโรงเรียน

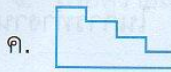
ก. แปรงลบกระดาน

ข. ดินสอ

ค. แก้ว

ง. ชอล์ก

๓๐. บันได ควรมึลักษณะอย่างไร



ได้คะแนน คะแนนเต็ม
๓๐