



ข้อสอบ	ตรงกับมาตรฐาน/ตัวชี้วัด											
	ศ ๑.๑										ศ ๑.๒	
	๑	๒	๓	๔	๕	๖	๗	๘	๙	๑	๒	
๑-๑๕	✓											
๑๖-๓๐			✓									

รวม ๒ ตัวชี้วัด

**คำชี้แจง** วง  รอบตัวอักษรหน้าคำตอบที่ถูกที่สุด

๑. กรวยใสไอศกรีม มีรูปร่างเป็นอย่างไร

- ก. รูปร่างอิสระ
- ข. รูปร่างวงกลม
- ค. รูปร่างสี่เหลี่ยม
- ง. รูปร่างสามเหลี่ยม

๒. แมว มีรูปร่างอย่างไร

- ก. รูปร่างอิสระ
- ข. รูปร่างวงกลม
- ค. รูปร่างสี่เหลี่ยม
- ง. รูปร่างสามเหลี่ยม

๓. สิ่งใดมีรูปทรงสี่เหลี่ยมมุมฉาก

- ก. ตะปู
- ข. ดินสอ
- ค. รองเท้า
- ง. กล่องพัสดุ


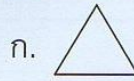
๔. กระจับปี่มีรูปร่างอย่างไร

- ก. พีระมิด
- ข. ทรงกลม
- ค. ทรงตรง
- ง. ทรงกระบอก

๕. ข้อใดมีลักษณะเป็นทรงกลม

- ก. ผลส้ม
- ข. ผลกล้วย
- ค. ผลทุเรียน
- ง. ผลมะม่วง

๖. ข้อใดเป็นรูปร่างเรขาคณิต



๗. ลูกบิงปอง มีรูปทรงอย่างไร

- ก. ปริซึม
- ข. พีระมิด
- ค. ทรงกลม
- ง. ทรงสี่เหลี่ยมมุมฉาก

๘. สิ่งใดมีรูปร่างเป็นวงกลม

- ก. ไข่ไก่
- ข. ขวดน้ำ
- ค. ก้อนหิน
- ง. ลูกแก้ว

๙. ข้อใดมีรูปร่างเหมือนธงชาติ

- ก. กระทะ
- ข. แก้วน้ำ
- ค. ลูกบอล
- ง. กระจาดดำ

๑๐. ข้อใดมีรูปร่างเหมือนกัน

- ก. ถ่านไฟฉาย-กรวยไอศกรีม
- ข. แก้วน้ำ-กระป๋องนม
- ค. แดงกวา-ลูกกรักบี้
- ง. ยางลบ-ดินสอ

๑๑. ข้อใดมีรูปร่างอิสระ

- ก. ส้ม
- ข. ใบไม้
- ค. เหยี่ยว
- ง. กล้องกระดาษ





๑๒. มะม่วง มีรูปร่างใด


- ก. ทรงกรวย
- ข. ทรงอิสระ
- ค. ทรงสี่เหลี่ยม
- ง. ทรงกระบอก

๑๓.  จากภาพ คล้ายกับรูปร่างข้อใด

- ก. มะพร้าว
- ข. กระจาด
- ค. ดอกทานตะวัน
- ง. กระเป๋านักเรียน





๑๔. มะนาว มีรูปร่างตรงกับข้อใด

- ก. 
- ข. 
- ค. 
- ง. 

๑๕.  เราใช้รูปร่างนี้แทนสัญลักษณ์ข้อใด

- ก. ไข่ไก่
- ข. หัวใจ
- ค. สมอ
- ง. พักทอง

๑๖. เส้นโค้งข้อใด ให้ความรู้สึกมีนง สับสน

- ก. 
- ข. 
- ค. 
- ง. 

๑๗. เส้นตรงแนวตั้ง ให้ความรู้สึกอย่างไร

- ก. มั่นคง
- ข. นุ่มนวล
- ค. อ่อนช้อย
- ง. เคลื่อนไหว



๑๘. ภาพข้อใดให้ความรู้สึก

เคลื่อนไหว

ก. แก้วน้ำในห้อง

ข. รถจอดในโรงรถ

ค. ยางลบวางบนโต๊ะ

ง. เด็กวิ่งเล่นในสนาม

๑๙. เส้นแบบใด ให้ความรู้สึก

เคลื่อนไหว

ก.  ข. 

ค.  ง. 

๒๐. ภาพวาดลูกโลก ประกอบไปด้วย

เส้นแบบใด

ก. เส้นโค้ง

ข. เส้นเฉียง

ค. เส้นตรงแนวตั้ง

ง. เส้นตรงแนวนอน

๒๑. สัตว์ในข้อใด มีสีเหมือนม้าลาย

ก. ช้าง ข. ยีราฟ

ค. เสือโคร่ง ง. หมูแพนด้า

๒๒. ข้อใดมีพื้นผิวเรียบ

ก. ฟองน้ำ ข. กระดาษ

ค. เปลือกหอย ง. ผนังกระดาษ

๒๓. ข้อใดเป็นการจัดพื้นที่ที่เหมาะสม

ก.  ข. 

ค.  ง. 


๒๔. ลูกบิงปอง มีพื้นผิวอย่างไร

ก. เปียกลื่น

ข. อ่อนนุ่ม

ค. ขรุขระ

ง. เรียบ

๒๕.  จากภาพ น่าจะเป็นภาพของอะไร

ก. ฝน

ข. ลม

ค. เมฆ

ง. คลื่น

๒๖. ข้อใดไม่ใช่ลักษณะของรูปร่าง

ก. มี ๒ มิติ

ข. มีด้านหนา

ค. มีด้านยาว

ง. มีด้านกว้าง

๒๗. ข้อใดมีพื้นผิวขรุขระ

ก. ไข่ไก่



ข. แดงโม

ค. ฟักทอง

ง. แอปเปิล

๒๘. ข้อใดมีการจัดวางภาพที่เหมาะสม

ก.  ข. 

ค.  ง. 

๒๙. เพราะเหตุใดจึงไม่ควรจัดภาพการจัดกระจาย

- ก. พื้นที่วางภาพจะไม่เพียงพอ
- ข. แย่งจุดสนใจกันเอง
- ค. ต้องใช้สีระบายมาก
- ง. ภาพไม่สวยงาม

๓๐. เส้นโค้งแบบคลื่นของน้ำทะเล ทำให้เกิดความรู้สึกอย่างไร

- ก. ไม่หยุดนิ่ง
- ข. สงบนิ่ง
- ค. แข็งแรง
- ง. สับสน

ใช้คะแนน คะแนนเต็ม  
๓๐