

หน่วยการเรียนรู้ที่ 1

รูปร่าง รูปทรง

1. ข้อใดคือรูปร่าง

1. เส้นรอบนอกของสิ่งต่างๆ
2. โครงสร้างที่สามารถมองเห็นได้ทั้งด้านกว้าง ยาว หนา
3. โครงสร้างที่แน่นอนไม่สามารถเปลี่ยนแปลงได้
4. ถูกทุกข้อ

2. รูปร่างมีลักษณะกี่มิติ

1. 1 มิติ
2. 2 มิติ
3. 3 มิติ
4. 4 มิติ

3. รูปทรงมีลักษณะกี่มิติ

1. 1 มิติ
2. 2 มิติ
3. 3 มิติ
4. 4 มิติ

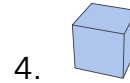
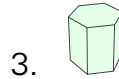
4. ข้อใดคือส่วนประกอบของรูปร่าง

1. ความกว้าง ความยาว
2. ความกว้าง ความยาว ความหนา
3. ความกว้าง ความยาว ความเฉียง
4. ความกว้าง ความยาว ความลึก

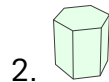
5. ข้อใดคือส่วนประกอบของรูปทรง

1. ความกว้าง ความยาว
2. ความกว้าง ความยาว ความหนา
3. ความกว้าง ความยาว ความเฉียง
4. ความกว้าง ความยาว ความชัน

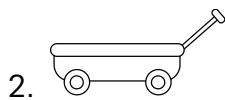
6. ข้อใดคือรูปร่าง



7. ข้อใดคือรูปทรง



8. ข้อใดคือรูปร่างธรรมชาติ



9. ข้อใดคือรูปร่างเรขาคณิต



10. ข้อใดคือรูปร่างอิสระ

